



دفتر تمارين العطلة

الرَّيْجِيَّة

ابتدائي

2

رَتِّبْ مِنَ الْأَخْفِ إِلَى الْأَثْقَلِ وَزَنًّا:



.....



.....



.....



.....



.....

رَتِّبْ مِنَ الْأَثْقَلِ إِلَى الْأَخْفِ وَزَنًّا:



.....



.....



.....

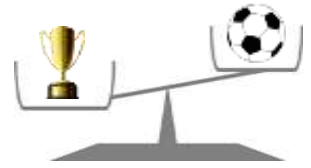
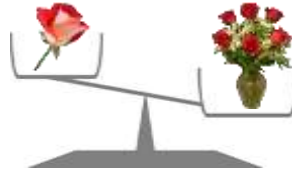


.....

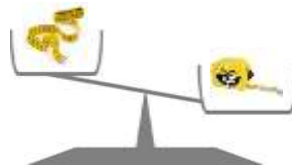
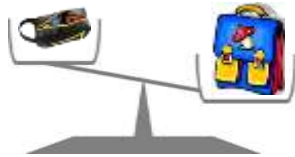


.....

أَضَعْ دَائِرَةَ عَلَى الشَّكْلِ الْأَثْقَلِ وَزَنًّا



أَضَعْ دَائِرَةَ عَلَى الشَّكْلِ الْأَخْفِ وَزَنًّا



نَمْ أَكْمِلِ الْقَرَأْ بِ: أَحْفُ وَزَنًّا - أَثْقَلُ وَزَنًّا


الدَّرَاجَةُ مِنَ السَّيَّارَةِ.

المِخْفَظَةُ مِنَ المِقْلَمَةِ

الوَرْدَةُ مِنَ المِزْهَرِيَّةِ.

الكَرَّاسُ مِنَ القَلَمِ.

الاحيط ثم اكمل ، يرسم الدراجات:



وزن سيارة واحدة يُعادل وزن 3 دراجات



وزن سيارتين و دراجة يُعادل وزن
دراجات

وزن سيارتين يُعادل وزن دراجات

أكتب العدد

لاحق العدد	المحصور بين العددين	سابق العدد
231 <	228 < < 230 < 230
123 <	654 < < 656 < 113
601 <	321 < < 323 < 900
319 <	498 < < 500 < 450
478 <	500 < < 502 < 110
109 <	610 < < 612 < 690
540 <	997 < < 999 < 300

ألون بالأحمر الأعداد الأصغر من 756 و بالأخضر الأعداد الأكبر من 756:

757	156	120	320	23	947	560	890	749
900	456	765	598	813	732	786	200	912

أخضُرْ بعشرتين مُتتاليتين:

... < 700 < < 190 < < 670 < ...
... < 301 < < 632 < < 210 < ...
... < 639 < < 458 < < 469 < ...
... < 555 < < 910 < < 820 < ...

أَحْصُرْ بِمَائَتَيْنِ مُتَّالِيَتَيْنِ:

... < 700 < < 390 < < 670 < ...
... < 301 < < 632 < < 210 < ...
... < 639 < < 458 < < 469 < ...
... < 555 < < 610 < < 820 < ...

بِالْأَرْقَامِ السِّتَّةِ التَّالِيَةِ 2 ، 4 ، 7 يُمَكِّنُنَا كِتَابَةَ سِتَّةِ أَعْدَادٍ، اكْتُشِفْهَا

727	740	247	420	724	947	240	472	722
422	274	762	742	714	732	427	207	412



شَكِّلْ سِتَّةَ أَعْدَادٍ بِالْأَرْقَامِ التَّالِيَةِ 9 ، 1 ، 2

.....
.....

وضعية:

عندك 245 دينارًا وَ زَادَكَ أَبُوكَ 203 دينارًا ، كَمْ دينارًا أَصْبَحَ لَدَيْكَ؟

إِشْتَرَيْتَ كُرَّاسًا ثَمَنُهُ 38 دينارًا، كَمْ بَقِيَ لَكَ مِنْ دينارًا.

الجواب	العملية
.....	
.....	
.....	
.....	

ألون القطع النقدية :

900 دينار	800 دينار	700 دينار	600 دينار
500 دينار	400 دينار	300 دينار	200 دينار



عندك 126 دينارًا و عند أخيك 100 دينارًا أقل منك، كم دينارًا يملك أخيك؟
 اشتريت لعبة ثمنها 115 دينارًا، كم بقي لك من دينار.

الجواب	العملية
.....	
.....	
.....	
.....	

قارن باستخدام الرمز < ، > ، :

- 699 . 696 912 . 992 352 . 332 913 . 915
 101 . 109 395 . 398 210 . 910 522 . 622

أكمل عمليات الطرح ثم اتحقق بالجمع

$$\begin{array}{r} 43 \\ - \\ \hline 25 \\ + \\ \hline 43 \end{array}$$

$$\begin{array}{r} 90 \\ - \\ \hline 38 \\ + \\ \hline 90 \end{array}$$

$$\begin{array}{r} 51 \\ - \\ \hline 29 \\ + \\ \hline 51 \end{array}$$

$$\begin{array}{r} 86 \\ - \\ \hline 69 \\ + \\ \hline 86 \end{array}$$

$$\begin{array}{r} 32 \\ - \\ \hline 19 \\ + \\ \hline 32 \end{array}$$

$$\begin{array}{r} 50 \\ - \\ \hline 26 \\ + \\ \hline 50 \end{array}$$

$$\begin{array}{r} 48 \\ - \\ \hline 19 \\ + \\ \hline 48 \end{array}$$

$$\begin{array}{r} 21 \\ - \\ \hline 15 \\ + \\ \hline 21 \end{array}$$

$$\begin{array}{r} 70 \\ - \\ \hline 47 \\ + \\ \hline 70 \end{array}$$

$$\begin{array}{r} 99 \\ - \\ \hline 19 \\ + \\ \hline 99 \end{array}$$

$$\begin{array}{r} 74 \\ - \\ \hline 58 \\ + \\ \hline 74 \end{array}$$

$$\begin{array}{r} 36 \\ - \\ \hline 29 \\ + \\ \hline 36 \end{array}$$

رتب الأعداد تنازليا

401 . 165 . 801 . 991 . 123 . 230 . 661 . 320

--	--	--	--	--	--	--	--	--	--

رتب الأعداد تصاعديا

171 . 304 . 288 . 890 . 701 . 585 . 976 . 142

--	--	--	--	--	--	--	--	--	--

أكمل شريط الأعداد:

691
									...
...	708	703	...
...									
...	...	715	719
									...
...

يمثل الجدول التالي النقاط التي تحصلت عليها كل من مرام و آدم و آلاء في الامتحان:

التربية المدنية	التربية العلمية	التربية الإسلامية	اللغة العربية	الرياضيات	
10	9	10	8	9	مرام
10	10	8	9	9	آدم
10	9	9	10	10	آلاء

- من تحصل على أعلى علامة في مادة الرياضيات؟
- كم تحصلت مرام في مادة اللغة العربية؟
- كم تحصل آدم في مادة التربية الإسلامية؟
- كم تحصلت آلاء في مادة التربية العلمية؟
- من تحصل على أعلى مجموع؟

شهر ماي 2017

شهر جوان 2017

الأحد	الاثنين	الثلاثاء	الأربعاء	الخميس	الجمعة	السبت
	1	2	3	4	5	6
7	8	9	10	11	12	13
14	15	16	17	18	19	20
21	22	23	24	25	26	27
28	29	30	31			

الأحد	الاثنين	الثلاثاء	الأربعاء	الخميس	الجمعة	السبت
				1	2	3
4	5	6	7	8	9	10
11	12	13	14	15	16	17
18	19	20	21	22	23	24
25	26	27	28	29	30	

عَدَدُ أَيَّامِ شَهْرِ مَاي هُوَ..... يَوْمًا

عِيدُ الطُّفُولَةِ فِي 01 جَوَان، فَأَيُّ يَوْمٍ يُصَادِفُ؟

يَحِلُّ شَهْرُ رَمَضَانَ يَوْمَ 26 مَاي 2017 وَ يَسْتَمِرُّ 29 يَوْمًا

لَوْنُ بِالْأَخْضَرِ أَيَّامَ شَهْرِ رَمَضَانَ.

مَا هِيَ الْمُنَاسِبَةُ الَّتِي سَنَحْتَفِلُ بِهَا يَوْمَ السَّبْتِ 24 جَوَان 2017 ؟

تَبْدَأُ اخْتِبَارَاتُ الْفَصْلِ الثَّلَاثِ يَوْمَ 4 جَوَان 2017 فَأَيُّ الْأَيَّامِ يُصَادِفُ؟

تَمَلِّكُ زَيْنَبُ 198 دِينَارًا، اشْتَرَتْ عَصِيرًا بِ 26 دِينَارٍ وَ قِطْعَةً حَلْوَى بِ 16 دِينَارًا، كَمْ دِينَارًا بَقِيَ عِنْدَ زَيْنَبِ؟

الْعَمَلِيَّةُ:

.....

الإِجَابَةُ

اشْتَرَتْ سَلْمَى 45 حَبَّةَ حَلْوَى، أَعْطَتْ لِصَدِيقَتِهَا سُمِّيَّةَ 29 حَبَّةً، كَمْ حَبَّةَ حَلْوَى بَقِيَتْ لَدَى سَلْمَى؟

الْعَمَلِيَّةُ:

.....

الإِجَابَةُ



لَدَى يَاسِينَ 43 كُرِّيَّةً وَ عِنْدَ عَادِلَ 29 كُرِّيَّةً أَقَلُّ مِنْ يَاسِينَ، كَمْ كُرِّيَّةً يَمْلِكُ عَادِلٌ؟

الْعَمَلِيَّةُ:

.....

الإِجَابَةُ



يَمْلِكُ رَاعٍ أَغْنَامَ 81 كَبْشًا، بَاعَ مِنْهَا 46 كَبْشًا، كَمْ بَقِيَ عِنْدَهُ؟

الْعَمَلِيَّةُ:

.....

الإِجَابَةُ

.....

يَمْلِكُ رَسِيمٌ 125 دِينَارًا، وَيَمْلِكُ يَاسِينَ ضِعْفَ
الْمَبْلَغِ، مَا هُوَ الْمَبْلَغُ الَّذِي يَمْلِكُهُ يَاسِينَ؟
الْعَمَلِيَّةُ:



الإِجَابَةُ

لَدَى مَرَامٍ 3 قِطْعٍ نَقْدِيَّةٍ مِنْ فِئَةِ 5 دَنَائِيرٍ، مَا هُوَ
الْمَبْلَغُ الَّذِي تَمْلِكُهُ مَرَامٌ؟
الْعَمَلِيَّةُ:




الإِجَابَةُ

انْطَلَقَتْ الْحَافِلَةُ عَلَى السَّاعَةِ 11:30 ، وَصَلَتْ
إِلَى الْمَحَطَّةِ عَلَى السَّاعَةِ 12:15، مَا هِيَ الْمُدَّةُ
الَّتِي اسْتَعْرَفَتْهَا لِلْوُصُولِ؟
الإِجَابَةُ:



اشْتَرَى عُمَرُ كَيْسَانَ مِنَ الْحَلِيبِ بِ 60 دِينَارًا
وَ خَمْسُ خُبْزَاتٍ بِ 49 دِينَارًا،
كَمْ دَفَعَ عُمَرُ مُقَابِلَ الْخُبْزِ وَالْحَلِيبِ؟
.....
.....

عَبِّرْ بِكَيْفَيْتَيْنِ مُخْتَلِفَتَيْنِ حَسَبَ الْمِثَالِ:



$$4 + 4$$

$$4 \times 2$$




$$.....$$

$$.. \times ..$$



$$.....$$

$$.. \times ..$$



$$.....$$

$$.. \times ..$$



$$.....$$

$$.. \times ..$$



$$.....$$

$$.. \times ..$$

<p>لَوْنِ الْبِطَاقَةِ الَّتِي تَحْمِلُ الْجَوَابَ الصَّحِيحَ، تَمْلِكُ هَنَاءُ 4 عُلْبٍ مِنَ الْأَقْلَامِ، كُلُّ عُلْبَةٍ تَحْتَوِي عَلَى 6 أَقْلَامٍ. مَا هُوَ عَدَدُ الْأَقْلَامِ؟</p> <p>4×6 6×8 3×4</p>	<p>لَوْنِ الْبِطَاقَةِ الَّتِي تَحْمِلُ الْجَوَابَ الصَّحِيحَ اشْتَرَى الْأَبُ 3 قِطْعٍ مِنَ الْجُبْنِ، ثَمَنُ كُلِّ قِطْعَةٍ 8 دَنَائِيرٍ. مَا هُوَ ثَمَنُ الْقِطْعِ الثَّلَاثِ؟</p> <p>3×8 3×9 2×8</p>
<p>لَوْنِ الْبِطَاقَةِ الَّتِي تَحْمِلُ الْجَوَابَ الصَّحِيحَ يَعْمَلُ هَادِي 8 سَاعَاتٍ يَوْمِيًّا، كَمْ سَاعَةً يَعْمَلُ هَادِي فِي الْأُسْبُوعِ؟</p> <p>7×8 8×6 8×8</p>	<p>لَوْنِ الْبِطَاقَةِ الَّتِي تَحْمِلُ الْجَوَابَ الصَّحِيحَ لَدَى رَايِدِ 4 قِطْعٍ نَقْدِيَّةٍ مِنْ فِتَّةِ 50 دِينَارٍ. كَمْ دِينَارًا يَمْلِكُ رَايِدٌ؟</p> <p>40×5 50×4 50×5</p>
<p>لَوْنِ الْبِطَاقَةِ الَّتِي تَحْمِلُ الْجَوَابَ الصَّحِيحَ حَضَرَ حَفْلَ عِيدِ الْمِيلَادِ 17 طِفْلًا، أَعْطَتِ الْأُمُّ لِكُلِّ وَاحِدٍ 10 حَبَّاتِ حَلْوَى. كَمْ حَبَّةَ حَلْوَى أَعْطَتْهَا الْأُمُّ لِلْأَطْفَالِ؟</p> <p>17×1 10×7 17×10</p>	<p>لَوْنِ الْبِطَاقَةِ الَّتِي تَحْمِلُ الْجَوَابَ الصَّحِيحَ اشْتَرَتِ الْأُمُّ 5 أَمْتَارٍ مِنَ الْقُمَاشِ، ثَمَنُ كُلِّ مِتْرٍ 192 دَنَائِيرٍ. مَا هُوَ ثَمَنُ الْقُمَاشِ؟</p> <p>5×192 5×91 2×192</p>
<p>لَوْنِ الْبِطَاقَةِ الَّتِي تَحْمِلُ الْجَوَابَ الصَّحِيحَ فِي مَزْرَعَةٍ يُوجَدُ 29 دَجَاجَةً، كُلُّ دَجَاجَةٍ بَاصَتْ 8 بَيْضَاتٍ. مَا هُوَ عَدَدُ الْبَيْضِ؟</p> <p>49×8 39×8 29×8</p>	<p>لَوْنِ الْبِطَاقَةِ الَّتِي تَحْمِلُ الْجَوَابَ الصَّحِيحَ أَكَلَ نَجِيبٌ 5 عُلْبٍ مِنَ الشُّوكْلَاطَةِ، كُلُّ عُلْبَةٍ تَحْتَوِي عَلَى 17 قِطْعَةٍ . مَا هُوَ عَدَدُ الْقِطْعِ الَّتِي أَكَلَهَا نَجِيبٌ؟</p> <p>5×17 8×17 27×8</p>