



دفتر تمارين العطلة الشتوية


السنة الثانية ابتدائي



الجيل الثاني



1. ألَوِّن العاندا لا :



2. اَكْتُبِ العَدَدَ المُناسِبَ، ثُمَّ اَدَوِّنُ الرِّقْمَ بِالْحُرُوفِ :






3. اَرْتِبْ الأَعْدَادَ مِنْ الأَكْبَرِ إلى الأَصْغَرِ :

50 ، 44 ، 72 ، 93 ، 0 ، 8 ، 17 ، 25 ، 33

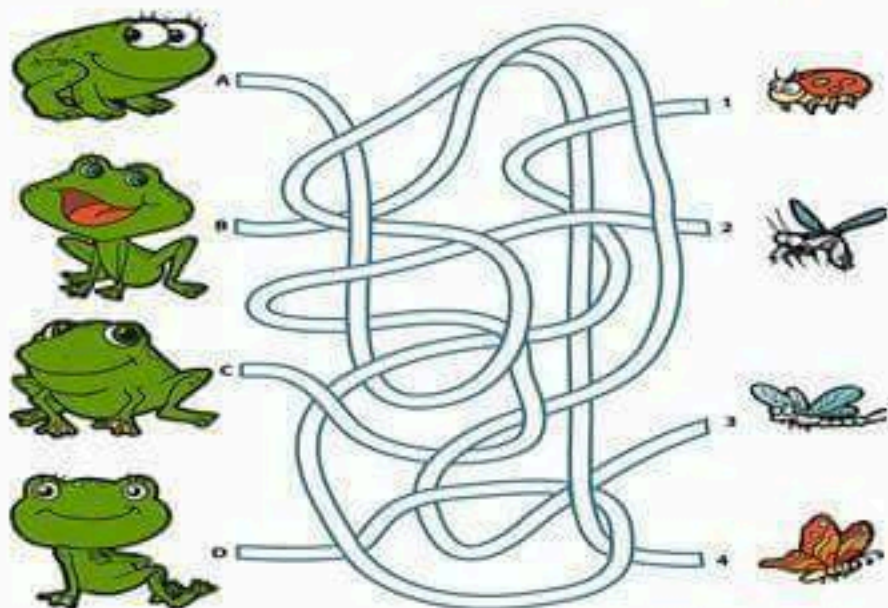
.....

4. اَرْتِبْ الأَعْدَادَ مِنْ الأَصْغَرِ إلى الأَكْبَرِ :

5 ، 4 ، 29 ، 94 ، 36 ، 12 ، 71 ، 98 ، 25

.....

5. أصِلْ كُلَّ ضِفْدَعٍ بِحَشْرَتِهِ:



6. أكْمِلْ الْجَدُولَ حَسَبَ الْإِثَالِ:

75	$70 + 5$	عدد الوخزات 5	عدد العشرات 5	خمسة و سبعون
...	$... + ...$	عدد الوخزات ...	عدد العشرات ..	ثلاثة و تسعون
...	$... + 8$	عدد الوخزات ...	عدد العشرات 4
...	$30 + ...$	عدد الوخزات 2	عدد العشرات
29	$... + ...$	عدد الوخزات ..	عدد العشرات
...	$... + ...$	عدد الوخزات ...	عدد العشرات ..	سِتَّة و سِتُّون



7. أربط بين الأرقام، ثم اجيب على السؤال إجابة كاملة:

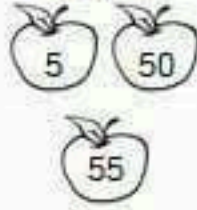
مَا هُوَ الرَّسْمُ الَّذِي تَحَصَّلْتَ عَلَيْهِ؟

8. الونَ العنذ الصّيح:

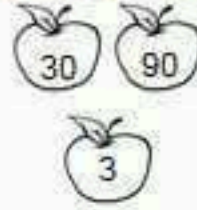
8 عنذات و 4 وخذت




55 وخذة



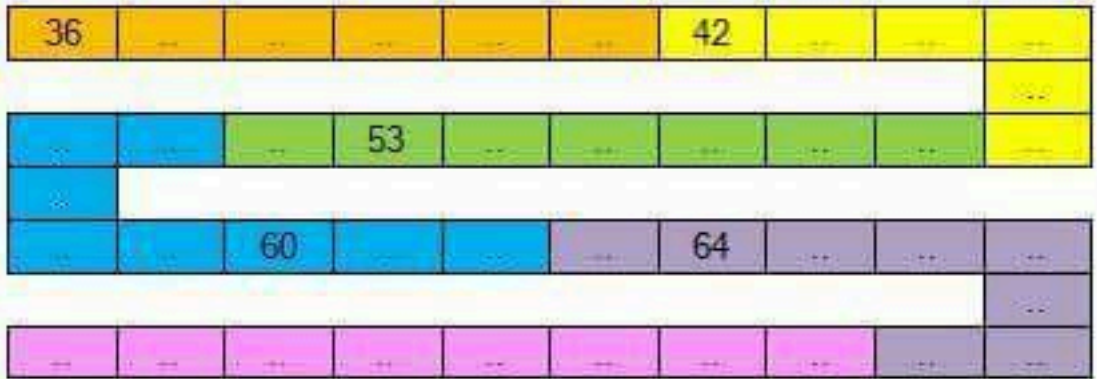
3 عنذات فقط



6 وخذت و 9 عنذات



9. اكمل شريط الاعداد:



اكبر عدد في الشريط الاصفر هو:

اصغر عدد في الشريط الازرق هو:

العدد الذي رقم وخذته 3 و رقم عنذاته 7 يقع في الشريط:

العدد الذي رقم عنذاته 3 و رقم وخذته 7 يقع في الشريط:

10. احسب:

$17 + \dots = 47$	$16 + \dots = 32$	$10 + \dots = 18$	$53 + \dots = 69$
$67 + \dots = 77$	$48 + \dots = 88$	$11 + \dots = 82$	$35 + \dots = 59$
$91 + \dots = 99$	$33 + \dots = 63$	$58 + \dots = 98$	$14 + \dots = 24$
$10 + 49 = \dots$	$18 + 81 = \dots$	$33 + 26 = \dots$	$12 + 12 = \dots$
$95 - 21 = \dots$	$39 - 37 = \dots$	$85 - 12 = \dots$	$59 - 14 = \dots$

11. أَبْحَثْ عَنِ الْفَوَارِقِ السَّبْعَةِ:



12. اكْمِلْ إِلَى الْعَشْرَةِ الْمُوَالِيَةِ:

$6 + \dots = \dots$	$30 + 3 + \dots = 40$	$65 + \dots = 70$	$40 + 2 + \dots = 50$	$42 + \dots = 50$
$18 + \dots = \dots$	$72 + 9 + \dots = 90$	$83 + \dots = 90$	$30 + 7 + \dots = 40$	$36 + \dots = 40$
$32 + \dots = \dots$	$61 + 8 + \dots = 70$	$54 + \dots = 60$	$8 + 3 + \dots = 20$	$28 + \dots = 30$

13. اكْمِلْ كَمَا فِي الْمِثَالِ:

$49 = 10 + 10 + 10 + 10 + 9$	$45 = \dots + \dots + \dots + \dots + \dots$	$37 = \dots + \dots + \dots + \dots$
$54 = \dots + \dots + \dots + \dots + \dots + \dots$	$72 = \dots + \dots + \dots + \dots + \dots + \dots + \dots + \dots$	$29 = \dots + \dots + \dots$
$48 = \dots + \dots + \dots + \dots + \dots$	$68 = \dots + \dots + \dots + \dots + \dots + \dots + \dots$	$31 = \dots + \dots + \dots + \dots$

14. اكْمِلْ وَأَحْسِبِ الْجَمْعَ، حَسَبَ الْمِثَالِ:

	$20 + 10 + 5 + 1$	36

15. اُبْحَثْ عَنِ الْأَشْيَاءِ الْمَطْلُوبَةِ:



16. اكمل المتاليات المنتظمة للأعداد

...	...	13	15	27
-----	-----	----	----	-----	-----	-----	-----	-----	----

...	20	24
-----	-----	-----	----	----	-----	-----	-----	-----	-----

6	9
---	---	-----	-----	-----	-----	-----	-----	-----	-----

17. الوَزنُ البِطَاقَاتِ الَّتِي تَعْبَلُ الْعَدَدَ: 100

50+50

10 عشرات

70+20

عشرة

24+66


50+20

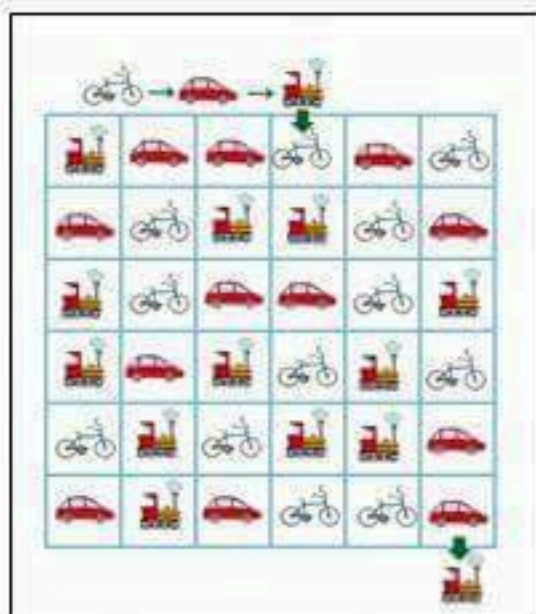
100

30+40

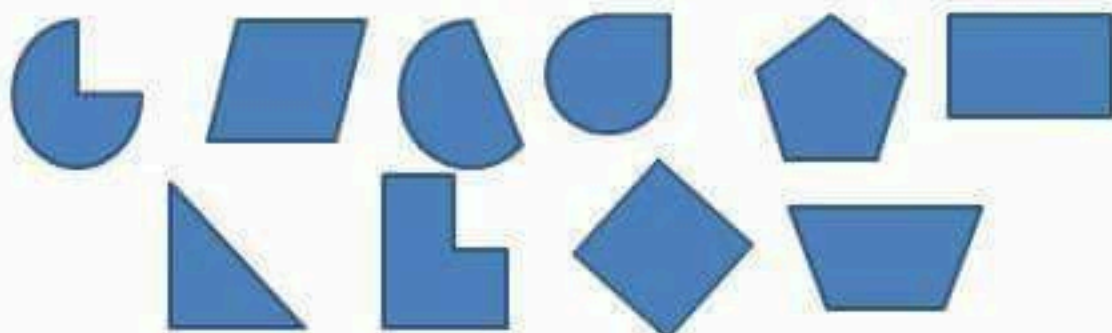
48+52

18. اِكْتَشِفْ الْقَاعِدَةَ، ثُمَّ اكْمِلِ الرَّسْمَ وَ التَّلوِين:






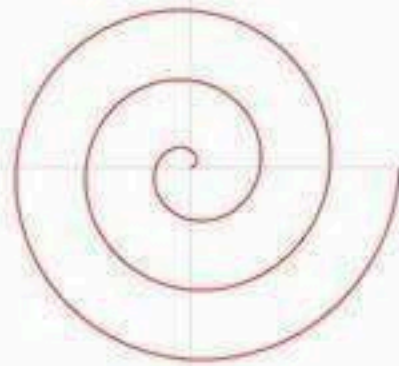
20. أضع علامة (x) داخل المضلعات، ثم ابحث عن الزوايا القائمة:



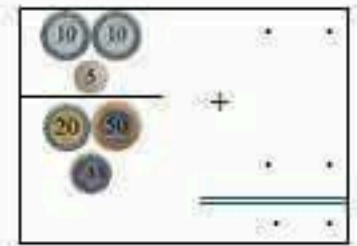
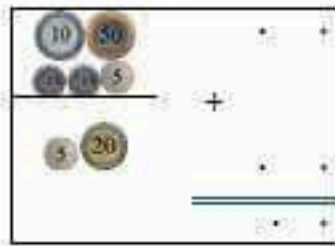
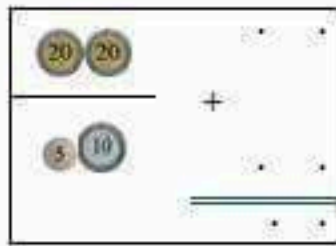
21. أربط بين النقط مُتبعًا المسار التي تسلكه النحلة لِصنع العسل، مُستعينا بالمسطرة، ثم قس طول الخط: طول المسار: سنيمتر



22. استعمل نفس الطريقة و اكمل رسم الشكل الحلزوني، يمكنك استعمال ألوان مختلفة:



23. احسب الوحدات و العشرات ثم احسب الجميع:



24. اكمل عمليات الطرح ثم اتحقق بالجميع

4	3				
-	3	2			
=				4	3

7	8				
-	4	6			
=				7	8

4	7				
-	3	4			
=				4	7

6	6				
-	6	5			
=				6	6

5	6				
-	3	2			
=				5	6

3	6				
-	2	0			
=				3	6

4	8				
-	1	8			
=				4	8

2	9				
-	1	5			
=				2	9

ابحث عن لحظة القوة :

30	1	14
----	---	----

16	24
----	----

13	32	11	14
----	----	----	----

1	13
---	----


25. ابحث عن الأشياء المطلوبة:



26. اربط بين الحيوان و غذاءه:



27. أكمل برسم ما هو صحي، وما هو غير صحي في الخانة المناسبة



28. أكمل تلوين المسار الصحيح:

2	4	6	7	10	11	17	18	32	34
3	5	8	8	9	12	16	19	30	36
4	6	10	12	18	13	15	20	22	38
5	7	20	14	16	18	14	34	36	38
6	8	19	16	22	20	22	32	43	40
7	9	18	17	26	27	24	30	42	42
8	10	17	18	25	28	26	28	41	44
9	11	16	19	24	29	34	35	40	46
10	12	15	20	23	30	33	36	39	48
11	13	14	21	22	31	32	37	38	50

5	15	40	95	65	80	20	55	60	20
10	15	25	90	85	55	25	50	65	25
10	20	40	40	45	50	25	90	95	25
30	25	30	35	65	55	35	95	90	35
5	25	30	15	5	60	70	85	80	65
10	35	20	35	10	65	70	75	70	85
15	5	45	15	5	45	20	80	85	80
50	55	65	50	55	65	25	40	90	95
70	45	85	70	45	85	25	45	80	100
75	35	80	75	35	80	35	50	55	105

29. أضع العمليات عمودياً، ثم انجزها:

$$20 + 68 + 11 = \dots$$

$$31 + 40 + 7 = \dots$$

$$24 + 12 + 32 = \dots$$

اشترت سلفى 19 كبة كلوى، أعطت لصديقتها سمية 8
 كتاب، كم كبة كلوى بقيت لدى سلفى؟
 العقلية:



الإجابة:

أكل سامي 12 كبة من الفراولة، وأكل يوسف 23 كبة،
 كم كبة فراولة أكل سامي و يوسف معاً؟
 العقلية:



الإجابة:

عمر هدى 12 سنة و أختها عادة أكبر منها بـ 5 سنوات،
 احسب عمر عادة؟
 العقلية:



الإجابة:

يملك ولاء 28 حبة و يملك غيب 14 حبة أقل من
 ولاء، كم حبة يملك غيب؟
 العقلية:



الإجابة:

لدى مرام 26 قصة، تبرعت بنصف الكمية إلى مكتبة
 المدرسة، كم قصة بقيت لدى مرام؟
 العقلية:



الإجابة:

يملك ربيع 23 ديناراً، ويملك ياسين ضعف الصلغ، فما هو
 الصلغ الذي يملكه ياسين؟
 العقلية:



الإجابة:

كشع فيسر 98 ديناراً، اشترى قطعاً من الكبن بـ 26
 ديناراً و كبات بيض بـ 45 ديناراً،
 فما هو الصلغ الذي دفعه فيسر مقابل الكبن و البيض؟
 العقلية:



الإجابة:

في الحافلة 46 راكباً، صعد في المحطة الأولى 13
 راكباً، ثم نزل في المحطة الثانية 28 راكباً، فما هو عدد
 الركاب؟
 العقلية:

كم بقي جلد فيسر؟

الإجابة: